

ATIVIDADE PARA ESTUDO DOMICILIAR
16° SEMANA: 22/06/2020 a 26/06/2020

Professor: Jéferson Pitol Righetto	Componente curricular: Geografia
Nível de ensino: Fundamental II	Turmas 811 e 812

HABILIDADES

Descrever as rotas de dispersão da população humana pelo planeta e os principais fluxos migratórios em diferentes períodos da história, discutindo os fatores históricos e condicionantes físico-naturais associados à distribuição da população humana pelos continentes.

Aula de Geografia

Data 10/07 Sexta-Feira

Hora: 11hs às 11:45

Regras

- Entrar na sala no horário
- Estar com as atividades das semanas anteriores
 - Estar com caderno da disciplina
- Que inicialmente todos devem colocar seus nomes
 - Câmera ligada
 - Microfone desligado/ ligar para perguntar

Link:

<https://meet.google.com/dof-mkcm-sbs>

Link para as aulas de 23/06 e 03/07: <http://encurtador.com.br/IAEFU>

Distribuição por idade

A população mundial pode ser analisada pela distribuição das pessoas em grupos de idade.

Apesar do grande número de jovens, há diferenças na distribuição da população por idade entre países e regiões. Há países que apresentam taxas de natalidade elevadas e, portanto, maior parte da população formada por crianças e jovens.

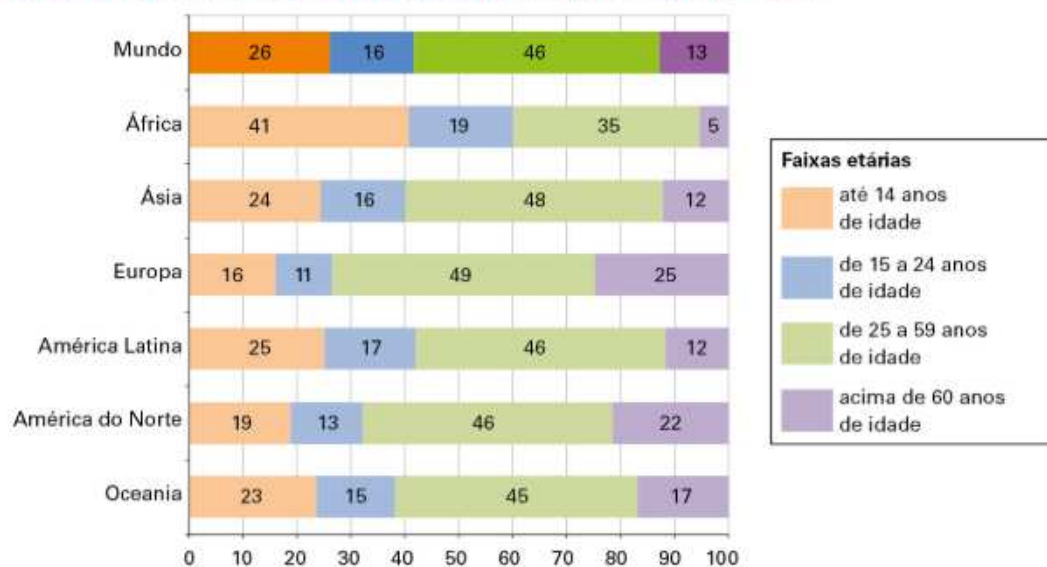
No entanto, em países com taxas de natalidade e mortalidade baixas, a população é formada principalmente por adultos e idosos.

Quase a metade dos habitantes da Terra faz parte da população adulta, entre 25 e 59 anos de idade. Contudo, crianças e adolescentes (0-14 anos) e os jovens (15-24 anos) representam parcela importante da população mundial.

Atualmente, cerca de 25% da população do planeta têm entre 10 e 24 anos, o que corresponde a aproximadamente 1,8 bilhão de pessoas.

Analise o gráfico.

Mundo e regiões: percentual da população nos grupos etários – 2017




(FERNANDO JOSE FERREIRA)

Fonte: ONU/Desa, Population Division (2017). **World Population Prospects: The 2017 Revision**. Disponível em: <https://population.un.org/wpp/Publications/Files/WPP2017_Volume-II-Demographic-Profiles.pdf>.

Acesso em: 13 abr. 2019.

1

 Anote em seu caderno o nome da região ou continente que apresenta maior percentual de:

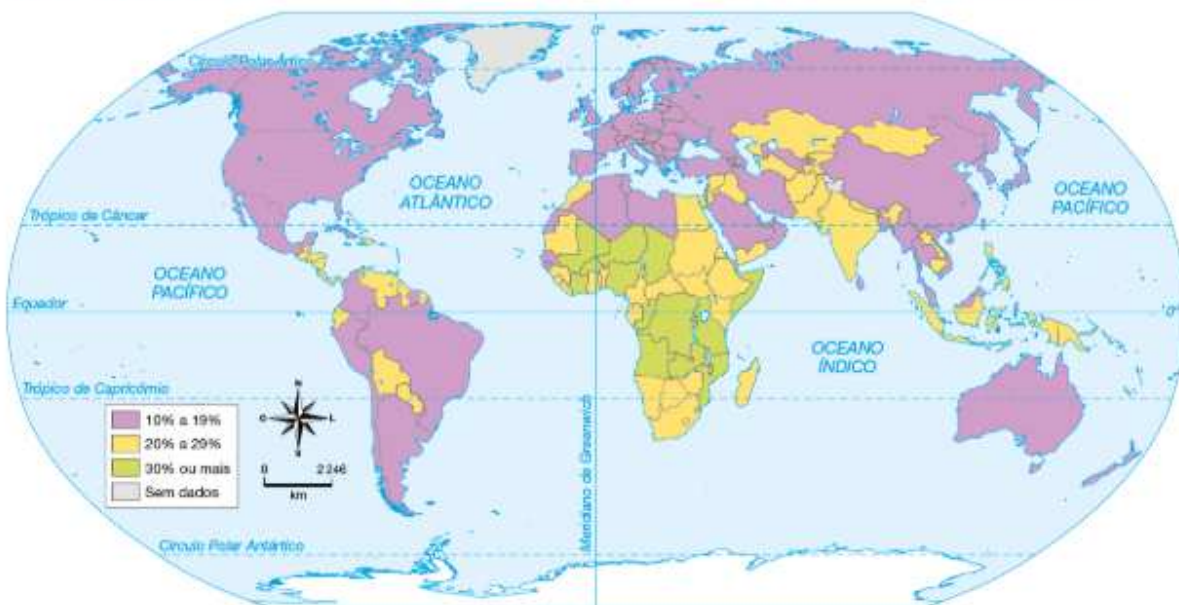
- a. Idosos (+60 anos);
- b. Adultos (25-59 anos);
- c. Crianças, adolescentes (0 a 14 anos) e jovens (15 a 24 anos).

Uma grande proporção de jovens na população de um país pode ser considerado um aspecto positivo, pois há mais pessoas em idade ativa, ou seja, aptas para trabalhar, podendo alavancar o desenvolvimento socioeconômico.

Porém, um ritmo acelerado de crescimento da população jovem pode ser um problema, visto que governos de países pobres não investem o necessário em setores que preparam os jovens para atuar ativamente na sociedade. Como consequência, muitos deles podem se sentir desmotivados, envolvendo-se em situações de risco ou migrando para outros países em busca de oportunidades.

Para aproveitar o potencial dos jovens, é preciso investir em escolas, universidades, acesso ao mercado de trabalho, saúde pública e programas de conscientização relacionados à gravidez precoce e ao uso de drogas. Observe o mapa.

Mundo: projeção do percentual de pessoas entre 10 e 24 anos na população – 2050



(ALLMAPS)

Elaborado com base em: FUNDO DE POPULAÇÃO DAS NAÇÕES UNIDAS (UNFPA). **Situação da População Mundial 2014**. Disponível em: <<http://www.unfpa.org.br/Arquivos/swop2014.pdf>>. Acesso em: 13 abr. 2019.

2

De acordo com o mapa, qual região do planeta ainda terá mais de um terço de sua população formada por pessoas entre 10 e 24 anos em 2050? Que fatores podem explicar essa dinâmica?

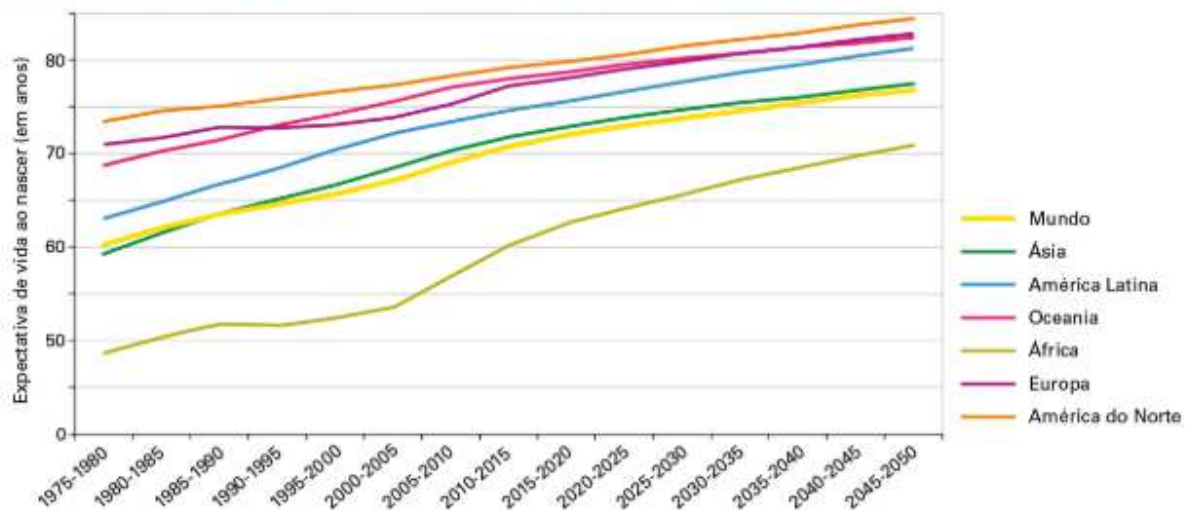
Envelhecimento da população

Outro aspecto da dinâmica da população mundial é o **envelhecimento**, ou seja, o aumento da **expectativa de vida** e da proporção de idosos.

No Brasil, a esperança de vida era de 45 anos em 1950 e passou para 73 anos, registrados no Censo 2010, contabilizando cerca de 14 milhões de idosos. As projeções indicam que, até o ano 2025, o número de idosos no país vai triplicar, enquanto no mundo vai dobrar.

Observe no gráfico que, a partir de 1975, a expectativa de vida aumentou em todas as regiões, com redução das disparidades entre elas. As projeções para 2050 apontam que a África terá o maior crescimento da esperança de vida. No entanto, será o único dos continentes em que o tempo médio de vida da população será inferior a 75 anos.




Mundo: expectativa de vida ao nascer, por regiões – 1975-2050



(FERNANDO JOSE FERREIRA)

Elaborado com base em: ONU/Desa, Population Division (2017). **World Population Prospects: The 2017 Revision**. Disponível em: <https://population.un.org/wpp/Publications/Files/WPP2017_Volume-II-Demographic-Profiles.pdf>. Acesso em: 13 abr. 2019.

Responda em seu caderno.

- 1  Classifique as regiões, em ordem crescente, em relação à expectativa de vida da população no período 2020-2025.
- 2  Entre 2015 e 2020, qual será a expectativa de vida aproximada na América Latina?
- 3  Entre 1975 e 1980, que regiões apresentavam expectativa de vida abaixo da média mundial?

O crescimento do número de idosos e da expectativa de vida indica grande avanço social. No entanto, a redução de pessoas em idade ativa pode ocasionar problemas em diversos setores, como o da **previdência social**. Muitas vezes, os governos têm de rever o tempo de contribuição dos trabalhadores e da idade mínima para a aposentadoria, a fim de evitar a diminuição das contribuições previdenciárias.

Previdência social: programa que o contribuinte paga durante a idade ativa a fim de garantir renda em casos de aposentadoria, doença, acidente e gravidez.

A população idosa também demanda serviços e investimentos específicos em saúde, casas de repouso, projetos sociais e culturais, entre outros.

Em muitos países desenvolvidos, políticas públicas voltadas aos idosos ajudam a promover boas condições de vida para essa parcela da população. No entanto, essas e outras conquistas sociais têm sido apontadas como fatores que levaram alguns países europeus a crises econômicas nos últimos anos.

Veja na tabela os países com elevado número de idosos (pessoas com mais de 65 anos) em relação à população total, de acordo com dados da ONU coletados em 2017.

Países com número elevado de idosos (em milhões) – 2017		
País	Número de idosos	Percentual (%) da população total
Japão	34681	27,1
Alemanha	17568	21,5
Itália	13685	23,0
França	12698	19,7
Reino Unido	12098	18,5

Fonte: Livro
Panoramas
Geografia FTD

Fonte: ONU/Desa, Population Division (2017). **World Population Prospects: The 2017 Revision**. Disponível em: <https://population.un.org/wpp/Publications/Files/WPP2017_Volume-II-Demographic-Profiles.pdf>. Acesso em: 13 abr. 2019.